



## GUÍA DE AUTOAPRENDIZAJE N°19 CIENCIAS NATURALES

### 1° BÁSICO

- Escribe tu nombre y apellido con *letra ligada*.


- Hoy es: (ejemplo. *Lunes 12 de octubre 2020*)

--

OA: 11

CONTENIDO: El Sol y nuestro planeta.

Realiza la guía en compañía de un adulto.

1.- Escribe cómo se llama cada uno de estos cuerpos celestes.




\_\_\_\_\_

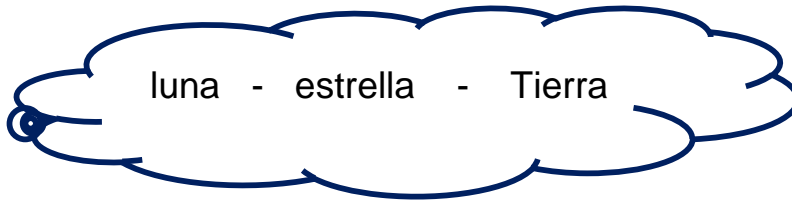
\_\_\_\_\_


\_\_\_\_\_

2.- En la siguiente imagen del Sistema Solar colorea el Sol y el planeta Tierra.



3.- Ubica las palabras de la nube en los espacios en blanco de cada oración, según corresponda.



- a) El Sol  es la \_\_\_\_\_ más grande del Sistema Solar.
- b) Solo en el planeta \_\_\_\_\_ existe vida.
- c) La \_\_\_\_\_ es el satélite natural de la Tierra.

4.- Selección múltiple

Marca con una X la alternativa correcta

<p><b>1.- ¿Qué forma tiene el planeta Tierra?</b></p> <p>a) Forma de esfera b) Es plana c) Es cuadrada</p>	<p><b>2.- La Tierra es:</b></p> <p>a) un satélite b) una estrella c) un planeta</p>
<p><b>3.- ¿Qué oración es verdadera?</b></p> <p>a) El Sol da vuelta alrededor de la Tierra. b) La Tierra se mueve alrededor del Sol. c) La Tierra está quieta.</p>	<p><b>4.- La Luna:</b></p> <p>a) gira alrededor del Sol b) gira alrededor de la Tierra. c) gira alrededor de la Luna</p>

Síntesis de la clase.

