

**GUÍA DE AUTOAPRENDIZAJE N°23: HISTORIA, GEOGRAFÍA Y CS. SOCIALES**

**1° BÁSICO**

- Escribe tu nombre y apellido con letra ligada

<hr/> <hr/> <hr/>
-------------------




OA:10

Contenido: Paisajes y vocabulario geográfico

1. Dibuja los siguientes paisajes.

<b>DESIERTO</b>	<b>BOSQUE</b>
<b>PLAYA</b>	<b>CIUDAD</b>

2. Une con una línea la imagen con la descripción correspondiente.




Conjunto de plantas propias de una zona.

Construcción que conecta dos lados que están obstaculizados.

Población pequeña con pocos habitantes.




3. Dibuja un paisaje que tenga las siguientes formas o elementos del paisaje

VOLCÁN LAGO PUENTE VEGETACIÓN



Selección múltiple:

- Marca la alternativa correcta de cada pregunta.

<p>1. ¿Qué es un lago?</p> <p>a) Lugar plano con arena o rocas en la orilla del mar. b) Extensión de agua rodeada de tierra. c) Corriente de agua que fluye permanentemente y desemboca en el mar.</p>	<p>2. ¿Para qué sirven los caminos?</p> <p>a) Para conducirnos a un lugar. b) Para separar las casa. c) Todas las anteriores.</p>
<p>3. ¿Cuál imagen representa una cordillera?</p> <div data-bbox="305 1822 558 2080"></div> <div data-bbox="115 2161 354 2397"></div> <div data-bbox="553 2161 786 2397"></div>	<p>4. ¿Qué representa la siguiente imagen?</p> <div data-bbox="967 1779 1398 2161"></div> <p>a) Playa b) Bosque c) Desierto</p>