

GUÍA DE RETROALIMENTACIÓN N°23: HISTORIA, GEOGRAFÍA Y CS. SOCIALES

1° BÁSICO




- Escribe tu nombre y apellido con letra ligada

OA:10	Contenido: Paisajes y vocabulario geográfico
-------	--

1. Dibuja los siguientes paisajes.

<p>DESIERTO</p> <p>Ilustrar paisaje árido.</p>	<p>BOSQUE</p> <p>Ilustrar paisaje con abundante vegetación.</p>
<p>PLAYA</p> <p>Ilustrar arena o rocas a la orilla del mar.</p>	<p>CIUDAD</p> <p>Ilustrar paisaje con gran cantidad de construcciones y caminos.</p>

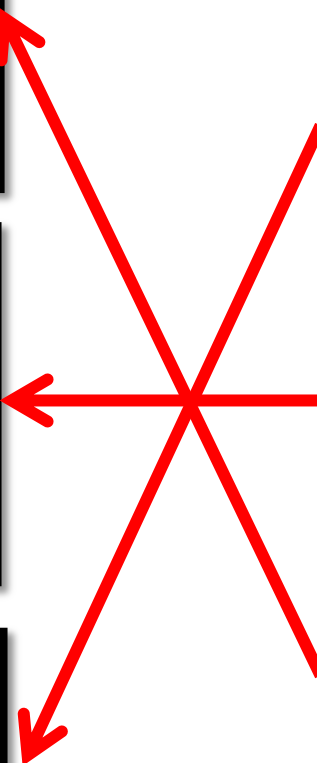
2. Une con una línea la imagen con la descripción correspondiente.



Conjunto de plantas propias de una zona.

Construcción que conecta dos lados que están obstaculizados.

Población pequeña con pocos habitantes.



3. Dibuja un paisaje que tenga las siguientes formas o elementos del paisaje

VOLCÁN LAGO PUENTE VEGETACIÓN

Ilustrar lo indicado conectado entre sí para formar un paisaje.

Selección múltiple:

- Marca la alternativa correcta de cada pregunta.

<p>1. ¿Qué es un lago?</p> <p>a) Lugar plano con arena o rocas en la orilla del mar. b) Extensión de agua rodeada de tierra. c) Corriente de agua que fluye permanentemente y desemboca en el mar.</p>	<p>2. ¿Para qué sirven los caminos?</p> <p>a) Para conducirnos a un lugar. b) Para separar las casa. c) Todas las anteriores.</p>
<p>3. ¿Cuál imagen representa una cordillera?</p> <p></p> <p></p> <p></p>	<p>4. ¿Qué representa la siguiente imagen?</p> <p></p> <p>a) Playa b) Bosque c) Desierto</p>