



GUIA DE AUTOAPRENDIZAJE N°2 HISTORIA
7° BÁSICO

Nombre _____ Curso: _____ Fecha: _____

Objetivo de Aprendizaje:

Explicar el proceso de hominización, reconociendo las principales etapas de la evolución de la especie humana, la influencia de factores geográficos, su dispersión en el planeta y las distintas teorías del poblamiento americano.

Para comenzar... observa el siguiente video y responde

<https://archeologie.culture.fr/lascaux/es/visita-cueva/abside>

Este video es una visita virtual a cuevas donde vivieron los primeros homo sapiens y dejaron sus huellas.

¿Qué dibujos se observan en la cueva? Y ¿por qué crees que los hacían?

Estos dibujos fueron conocidos como “arte rupestre” y se encuentran también en otros lugares del mundo.

EXPANSIÓN DEL HOMO SAPIENS

Durante un largo período de tiempo, las personas se dedicaron a cazar animales y a recolectar frutos y semillas para alimentarse. Esta idea nos cuesta trabajo entenderla hoy. Estamos acostumbrados a transformar el ambiente según nuestras necesidades. Por ejemplo, nosotros sembramos gran parte de la comida que consumimos, y criamos ganado. Estas primeras personas dependían totalmente de lo que hubiera en el lugar.

Los grupos de personas no se quedaban a vivir en el mismo lugar todo el tiempo (eran nómades). Por el contrario, cambiaban de lugar con mucha frecuencia porque tenían que seguir a las manadas de animales que cazaban.

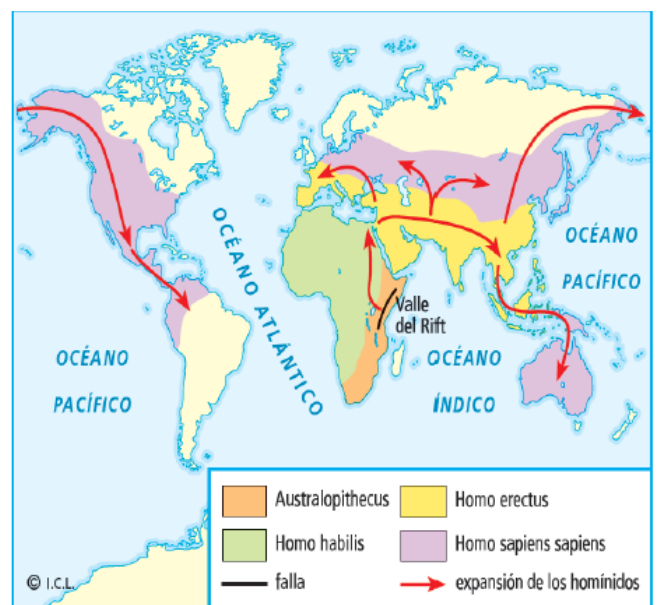
Este hecho generó que las primeras especies de homínidos comenzaran a emigrar y a expandirse a través del continente africano.

Todo surge en África

Se plantea la aparición del Homo sapiens en el continente africano y su posterior expansión por el resto del planeta. Este Homo sapiens surgió hace aproximadamente unos 200.000 años atrás y sus antepasados se remontarían millones de años más atrás.

Cronología de la expansión del homo sapiens

- Hace 200.000 años atrás el homo sapiens se encuentra en África.
- Se estima que hace 70.000 años el hombre ya había alcanzado la actual zona del Asia Menor.
- Entre los 70.000 a los 35.000 años antes de nuestra era el hombre ha dejado evidencias de su presencia en la península ibérica y las riberas del mar del norte.

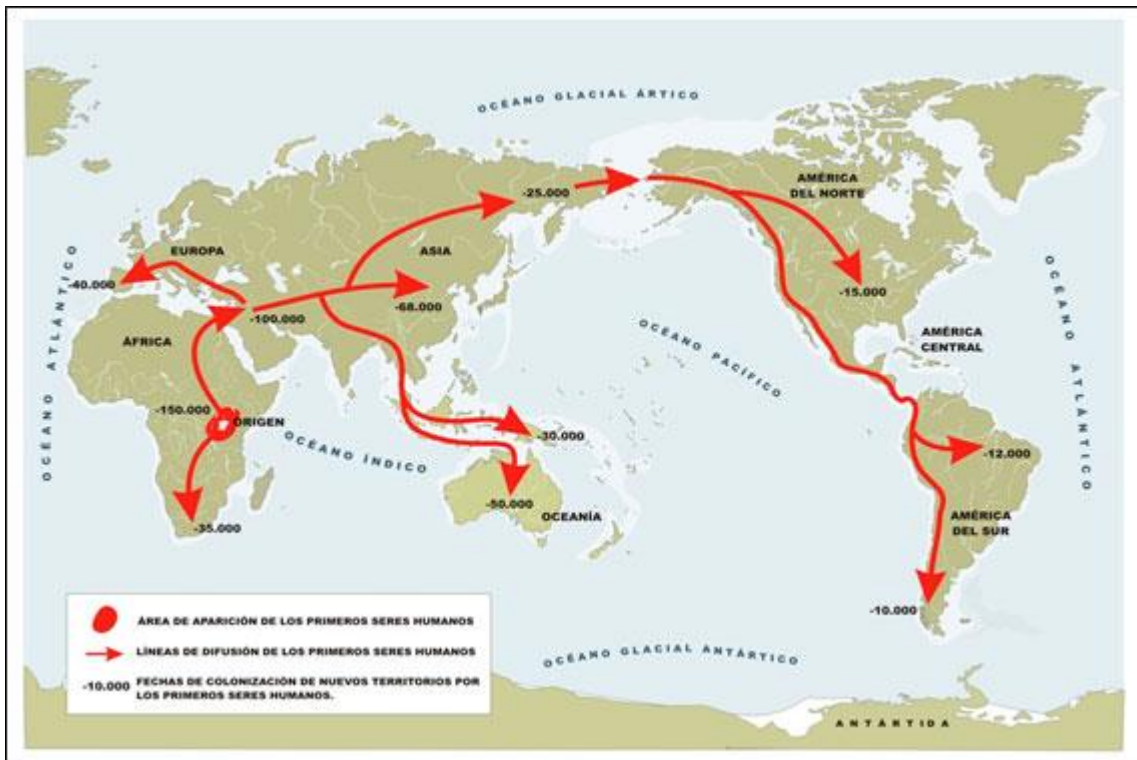




- Hacia las mismas fechas el hombre ha llegado a las llanuras siberianas en el centro de Asia.
- Las evidencias más antiguas nos indican presencia de homínido en las costas del lejano Oriente hace 60.000 años.
- Ya hace 40.000 años el hombre ha recorrido el continente australiano enfrentándose al océano pacífico como una nueva frontera a superar.



Observa el mapa que se presenta a continuación y responde:



1. ¿En qué parte del mundo habrían aparecido los primeros homínidos?

2. ¿Cuál fue el primer y cuál el último continente al que llegaron los primeros seres humanos?

3. Describe la ruta seguida por los seres humanos en su traslado por el mundo.

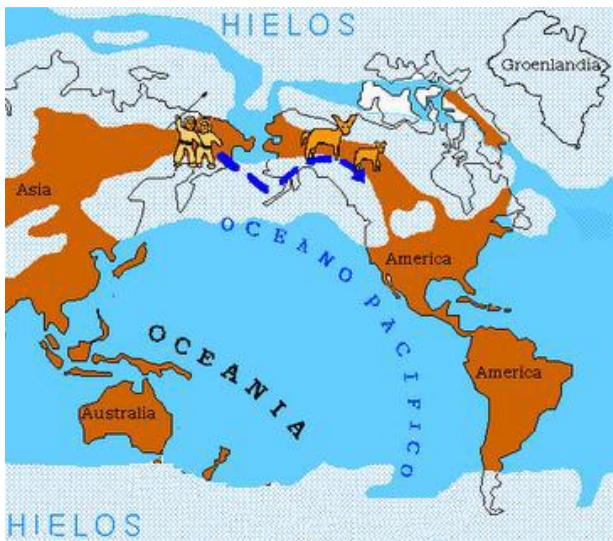
TEORÍAS DEL POBLAMIENTO AMERICANO

Sobre el poblamiento de América han surgido una serie de teorías planteadas por científicos o estudiosos a través de los años. Algunas teorías o planteamientos han sido más aceptadas que otras. Aún los investigadores han coincidido en señalar que los primeros habitantes de América llegaron desde otros continentes durante el periodo conocido como la “cuarta glaciación”, y que ya habían alcanzado el proceso de evolución física al ser humano actual.

Hoy en día muchos investigadores coinciden que el poblamiento americano tiene un origen múltiple de los primeros americanos, o sea habían provenido de lugares distintos. Y que el poblamiento de los primeros seres humanos que llegaron a América lo hicieron hace aproximadamente entre los 40.000 a 30.000 años.

La teoría más aceptada es la que dice que el nivel del mar descende creando pasos oceánicos por los cuales atraviesa el hombre desde Asia a América. Estos humanos se agrupaban en bandas nómades de no más de 40 personas.

Las principales teorías de poblamiento americano son:

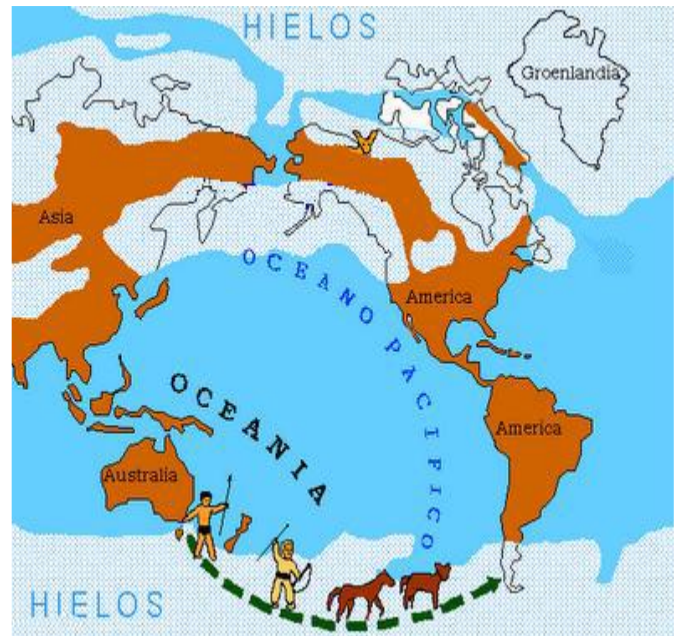


Teoría Asiática: Alex Hardlicka planteó que el ser humano había ingresado a América por Alaska desde Siberia (Asia), cruzando el estrecho de Bering, que producto de la glaciación se había convertido en un puente terrestre natural. El Homo Sapiens habría avanzado, sin darse cuenta, al otro continente, siguiendo a los mastodontes, alces y otros mamíferos. Para apoyar su teoría, Hardlicka se basó en:

- Similitudes físicas entre el hombre asiático y los americanos originarios.
- Construcción de gran parte de las palabras en lenguas asiáticas y americanas de manera semejante.

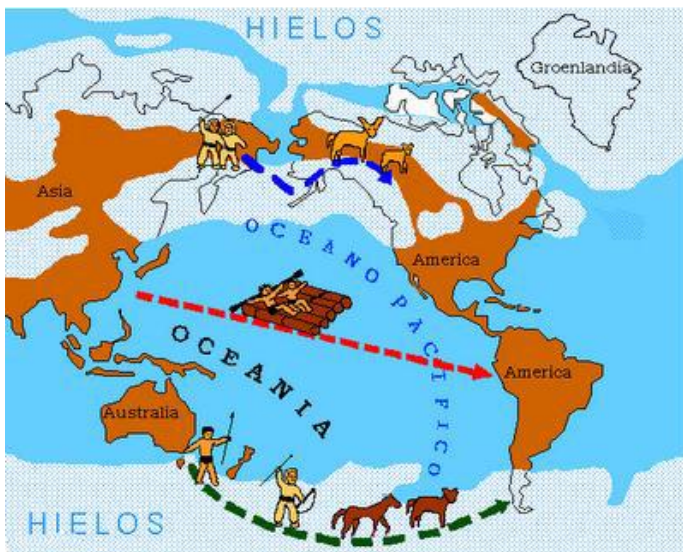
Teoría Australiana: Planteada por Mendes Correa y postula que el hombre habría llegado a América atravesando un puente terrestre similar al de Bering, pero localizado en el extremo sur del globo entre Australia y Sudamérica (el llamado puente antártico). Por esta ruta y avanzando en balsas desde Australia a Tasmania, las islas Auckland y la Antártica y desde allí llegan al actual territorio austral de Chile. Para apoyar su teoría, Mendes Correa se basó en:

- Tipos de viviendas
- Capacidad de resistencia al frío
- Semejanzas físicas de los nativos australianos con los aborígenes de la Tierra del Fuego.



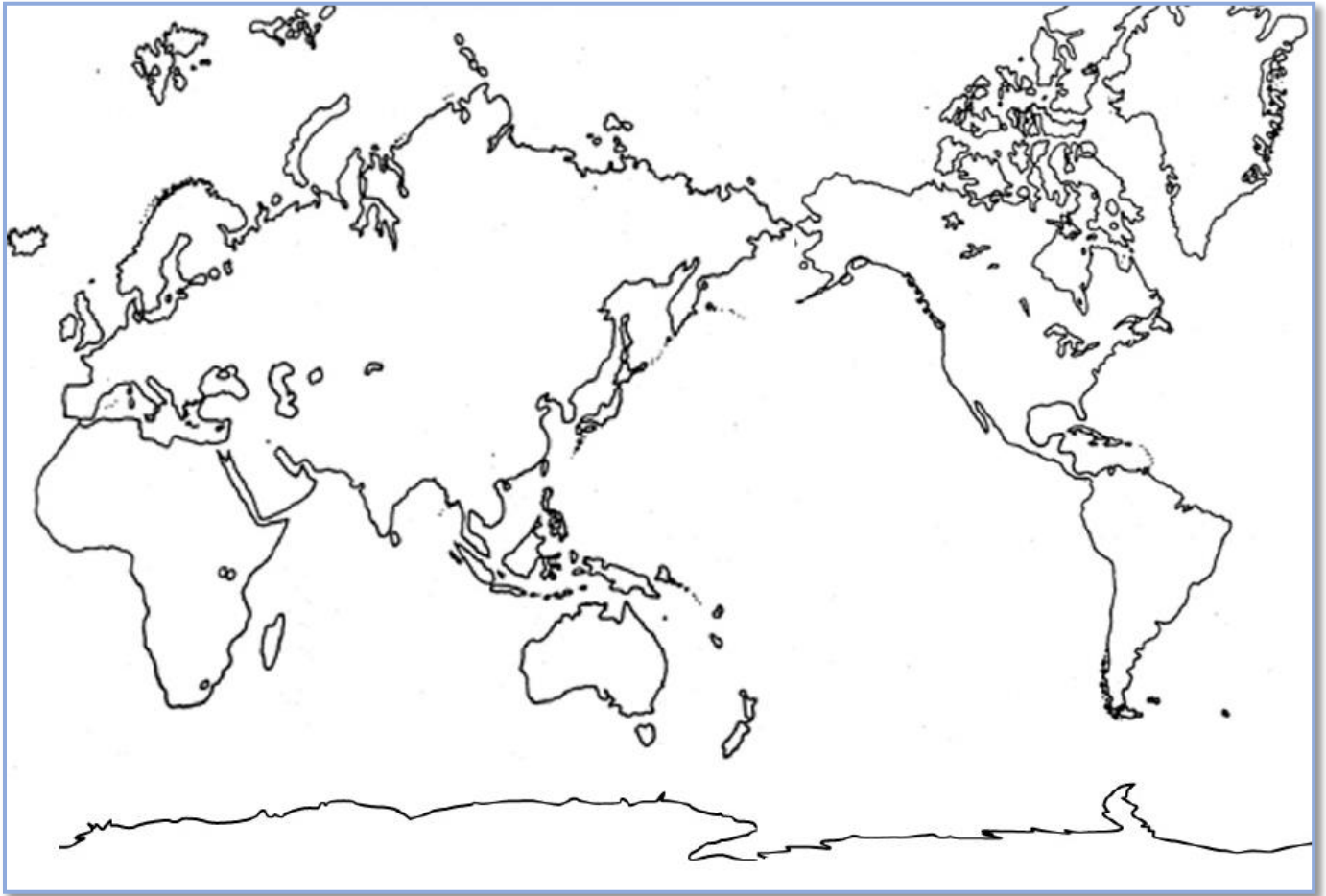
Teoría Polinésica-Melanesica: Paul Rivet formuló la teoría multirracial de poblamiento americano, mediante la cual el hombre habría llegado a América siguiendo la ruta asiática por Bering propuesta por Hardlicka, la ruta australiana, propuesta por Mendes Correa y una ruta transoceánica marítima que partió en las islas polinésicas hasta llegar a las costas de Sudamérica. Como sustento de su teoría, Paul Rivet plantea la siguiente evidencia:

- Correspondencias lingüísticas y culturales que se evidencian entre pueblos asiáticos, polinésicos y amerindios.
- Rasgos comunes como: la estatura, el color de piel y la forma de la cara de los pueblos a ambos lados del Océano Pacífico.





Actividad: Observa el siguiente mapa y complétalo según las instrucciones que aparecen a continuación. Dibuja con una línea de diferente color, cada uno de los recorridos que podrían haber hecho los humanos con respecto al poblamiento americano. Realiza la simbología según corresponda.



Simbología

Para terminar....

Responde las siguientes preguntas:

1. ¿Qué relación existe entre la última glaciación y el poblamiento americano?

2. ¿Cómo pudieron los Homo sapiens alcanzar Australia y las demás islas de Oceanía?, ¿qué técnicas debieron desarrollar para lograrlo?



3. Según las teorías estudiadas, ¿qué elementos ayudan a sostener la idea de que el continente americano fue poblado desde otros lugares del planeta?

4. ¿Cuál de las teorías entrega evidencias que a su parecer son más sólidas? Argumente.
